

1 次のA～Eは、日本にある世界遺産をいくつかのグループに分けたもので、「 」は世界遺産の名称を、【 】はその世界遺産のある都道府県を示しています（表示のないものもあります）。また、複数のグループに含まれている世界遺産や、示されていない世界遺産もあります。これを見て、あとの問いに答えなさい。

A : ( ① ) 地方にある世界遺産

「日光の社寺」  
 「小笠原諸島」  
 「富岡製糸場と絹産業遺産群」  
 「ル・コルビュジエの建築作品  
 ー近代建築運動への顕著な貢献ー」

B : 世界 ( ② ) 遺産

「白神山地」【③青森県・秋田県】  
 「屋久島」【鹿児島県】  
 「知床」【北海道】  
 「小笠原諸島」  
 「奄美大島、徳之島、沖縄島北部及び西表島」

C : 1993年に登録された世界遺産

「法隆寺地域の仏教建造物」  
 「④姫路城」  
 「屋久島」  
 「白神山地」

D : 令和になってから登録された世界遺産

「百舌鳥・古市古墳群  
 ー古代日本の墳墓群ー」  
 「奄美大島、徳之島、沖縄島北部及び西表島」  
 「⑤北海道・北東北の縄文遺跡群」

E : 2つ以上の都道府県にまたがる世界遺産

「白神山地」【青森県・秋田県】  
 「白川郷・五箇山の合掌造り集落」【富山県・岐阜県】  
 「紀伊山地の霊場と参詣道」【三重県、奈良県、( ⑥ )】  
 「明治⑦日本の産業革命遺産 製鉄・製鋼、造船、石炭産業」  
 【山口県・福岡県・佐賀県・長崎県・熊本県・鹿児島県・岩手県・静岡県】  
 「長崎と天草地方の潜伏キリシタン関連遺産」【長崎県・熊本県】  
 「奄美大島、徳之島、沖縄島北部及び西表島」【鹿児島県・沖縄県】  
 「北海道・北東北の縄文遺跡群」【北海道・青森県・⑧岩手県・秋田県】

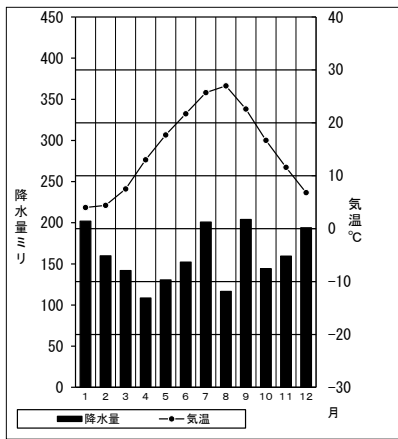
問1 グループAの ( ① ) , グループBの ( ② ) に当てはまる語句を、それぞれ漢字2字で答えなさい。

問2 グループBの下線部③青森県に関連して、次の特徴<sup>とくちょう</sup>を参考にして、青森市の気温と降水量を示した雨温図を、下のア～エのうちから1つ選び、記号で答えなさい。

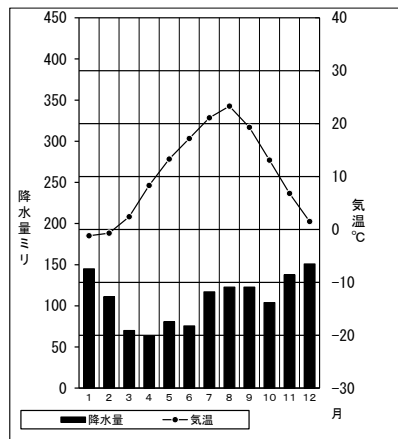
なお、ア～エの雨温図は、青森、釧路、鳥取、東京のいずれかです。またグラフ中の棒グラフは降水量、折れ線グラフは気温を表しています。

- 特徴
- ・冬は寒く、平均気温が0°C未満になる月がある。
  - ・冬は大雪になることがあり、冬の降水量は多い。

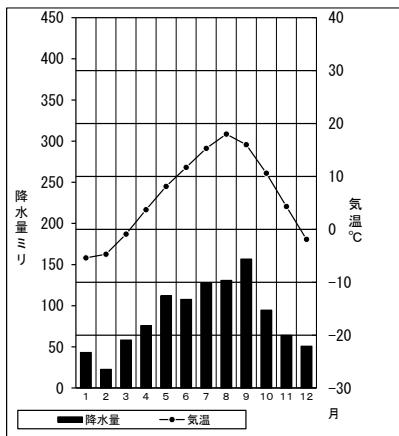
ア



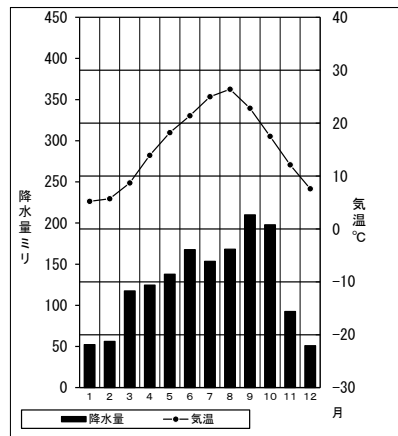
イ



ウ



エ



問3 グループBの青森県，秋田県，鹿児島県，北海道では農業がさかんです。日本の農林水産業について，次の（1）～（3）に答えなさい。

（1） 次の表1は，鹿児島県，北海道が生産の上位をしめる肉用牛・乳用牛・豚の飼育頭数，ブロイラー（肉用鶏）の出荷羽数について，上位の5道県とその全国にしめる割合（%）を示したもので，表1中のX～Zは，鹿児島県，北海道，宮崎県のいずれかです。鹿児島県と北海道の正しい組み合わせを，下のア～カのうちから1つ選び，記号で答えなさい。

表1

統計は2018年

肉用牛		乳用牛		豚		ブロイラー	
X	20.5%	X	60.1%	Y	13.8%	Y	20.1%
Y	13.5%	栃木県	3.9%	Z	9.1%	Z	19.6%
Z	10.0%	熊本県	3.3%	X	7.6%	岩手県	15.9%
熊本県	5.0%	岩手県	3.2%	群馬県	6.9%	青森県	6.0%
岩手県	3.6%	群馬県	2.6%	千葉県	6.6%	X	5.4%

	ア	イ	ウ	エ	オ	カ
鹿児島県	X	X	Y	Y	Z	Z
北海道	Y	Z	X	Z	X	Y

（2） 日本でさかんな稲作について述べた文のうち，まちがっているものを，次のア～エのうちから1つ選び，記号で答えなさい。

- ア 日本で育てられている稲の多くは，大量の水を必要とする品種で，水が豊富であることが求められる。
- イ 昔と比べると，同じ広さの土地でとれる米の量が増えた一方で，米作りにかかる作業時間は短くなっている。
- ウ 稲作がさかんで米を毎年20万トン以上生産する都道府県は，気候が温暖で雨が多い西日本に多い。
- エ 昔と比べると，日本全体での米の生産量は，消費量とともに減っており，米の作付面積も減少している。

- (3) 次の表2は1980年と2017年の魚種別漁獲量(海面漁業のみ)を表したもので、多くの魚種の漁獲量が減っていることがわかります。その理由としてまがっているものを、下のア～エのうちから1つ選び、記号で答えなさい。

表2

単位 万トン

	いわし類	さば類	かつお類	たら類	まぐろ類
1980年	244.2	130.1	37.7	164.9	37.8
2017年	76.9	51.8	22.7	17.4	16.9

- ア 世界全体の水産物の消費量が減少し、日本の消費量も減少したため。  
 イ 海水温など環境の変化により、魚のとれる場所や量が大きく変わってきたため。  
 ウ 世界各地で排他的経済水域の設定が進み、日本漁船の漁場がせばまったため。  
 エ 燃料費の値上がりや後継者不足などにより、漁業を行う人が減少したため。

問4 グループCの下線部④に関連して、姫路城がある姫路市はオーストラリアのアデレード市と姉妹都市提携をしています。オーストラリアと日本の貿易について述べた文として最も適当なものを、次のア～エのうちから1つ選び、記号で答えなさい。

- ア オーストラリアにとって、最大の貿易相手国は日本である。  
 イ 日本のオーストラリアへの輸出額は、オーストラリアからの輸入額よりも多い。  
 ウ オーストラリアへの輸出では、衣類、鉄鋼、プラスチックの割合が大きい。  
 エ オーストラリアからの輸入では、液化天然ガス、石炭、鉄鉱石の割合が大きい。

問5 グループDの下線部⑤に関連して、北海道には、日本がロシア連邦に返還を求めている北方領土とよばれる島々があります。北方領土の島々としてまがっているものを、次のア～エのうちから1つ選び、記号で答えなさい。

- ア 択捉島      イ 国後島      ウ 竹島      エ 歯舞群島

問6 グループEの( ⑥ )に当てはまる県名を、漢字で答えなさい。

問7 グループEの下線部⑦に関連して、次の(1)(2)に答えなさい。

(1) 次のア～クの文のうち、「中京工業地帯」について述べたものを3つ選び、記号で答えなさい。

- ア 金属工業の工業生産額の割合が最も大きい。
- イ 自動車工業がさかんである。
- ウ 日本の工業地帯の中で最も工業生産額が大きい。
- エ 繊維産業がさかんである。
- オ 栃木県・群馬県・埼玉県にまたがる工業地帯である。
- カ 新潟県・富山県・石川県・福井県にまたがる工業地帯である。
- キ 太平洋ベルトと呼ばれる地域にある。
- ク つくられた製品の多くは飛行機で輸送される。

(2) また、日本にはたくさんの工場があります。大きな工場(従業員300人以上)や比較的小さな中小工場です。大工場と中小工場を比較した時、中小工場の方が多いものは次のうちどれですか。次のア～エのうちから2つ選び、記号で答えなさい。

- ア 日本の工場の数に占める割合
- イ 日本の工場労働者数に占める割合
- ウ 日本の工業生産額に占める割合
- エ 従業員一人あたりの生産額

問8 グループEの下線部⑧について、岩手県と秋田県の県庁所在地を、それぞれ漢字で答えなさい。

問9 日本の世界遺産の一つに、「富士山—<sup>しんこう</sup>信仰の対象と芸術の<sup>げんせん</sup>源泉—」があります。この世界遺産は、どのグループに入りますか。A～Eのうちから1つ選び、記号で答えなさい。

問 10 日本は、四つの大きな島と、沖縄島や淡路島など、およそ 7000 の島々から成り立っています。四つの大きな島のうち、世界遺産がない島はどこですか。漢字で答えなさい。

問 11 国際連合が定める 2030 年までに持続可能でよりよい世界を目指す国際目標が SDGs (エス・ディー・ジーズ「持続可能な開発目標」) です。SDGs は 17 のゴール (目標) から構成されています。地域の史跡などが世界遺産に認定されることにより、その地域にどのような SDGs のゴールに関する影響<sup>えいきょう</sup>があると考えられますか。次に示した SDGs のゴール (1・8・11・15・16) の中から 1 つ選び、あなたが考える影響を答えなさい。



- |                  |              |
|------------------|--------------|
| 1 貧困をなくそう        | 8 働きがいも経済成長も |
| 11 住み続けられるまちづくりを | 15 陸の豊かさも守ろう |
| 16 平和と公正をすべての人に  |              |

2 次の文章を読んで、あとの問いに答えなさい。

2021年は、賢明女子学院が姫路に誕生して70年を迎えた年でした。賢明女子学院が誕生した1951年には、姫路に動物園も開園しました。①1950年代には、姫路だけでなく、全国に多くの動物園が開園しました。これによって、動物はより身近な存在になりました。

動物と人間の関わりについては、長い歴史があります。今から約9000年前にはすでに小型動物が家畜化され、約6000年前には馬が家畜化されたことが分かっています。はじめは農業や運ばんに利用されていましたが、馬のスピードや頑丈さが注目されるようになり、戦いに欠かせない動物になっていきました。約2700年前の古代ギリシャの②オリンピックでは、すでに馬が戦車を引く競技がありました。

日本の歴史はこの馬との出会いで変化していきました。③中国の歴史書の記述によると、④弥生時代の末ごろまでの日本には馬はいなかったようです。日本に馬がやってきたのは4世紀末から5世紀のはじめ、古墳時代ごろのことです。古墳時代の遺跡からは、馬の(⑤)や馬具も出土しています。朝鮮半島から伝わった馬はその後、日本の通信・輸送や農業を発達させていきました。⑥大化の改新ののち、⑦馬による交通制度が作られてからは、馬の数も増えていきます。交通だけでなく、⑧鎌倉時代や室町時代には牛や馬を利用した農業が広まっていきました。また、武士たちは馬を使って戦いを有利にしていきました。鎌倉時代の、大陸から攻めてきた国との戦いを描いた「⑨蒙古襲来絵詞」や、戦国時代の戦いの様子を描いた「⑩長篠合戦図屏風」には、馬に乗って戦う武士の様子が描かれています。

江戸時代になると大きな戦いがなくなったため、⑪馬の役目は輸送手段が中心になっていきます。戦いに利用する必要がなかった上に、⑫鎖国の影響もあり、品種改良などの発展はみられませんでした。現代の競馬に登場するような立派な馬と、昔からの日本の馬には実は大きな体格差がありましたが、江戸時代までは気にすることもなかったのです。明治時代になり、日清戦争や⑬日露戦争で、外国の品種改良された大きな馬と日本の馬との体格や力の差を痛感してからは、日本でも⑭外国から輸入した馬と交配をおこない、品種改良が進みました。

第二次世界大戦によって、戦前にあった馬の関係の団体や政策はすべてなくなってしまいました。競馬やオリンピックでの馬術の影響もあり、競馬用の馬の生産だけがさかんになっていきました。

問1 下線部①について、1950年代に多くの動物園が開園した理由の一つは、ある大きな出来事が終わったことです。その理由を解答らん<sup>らん</sup>に合うように答えなさい。

問2 下線部②について、夏季・冬季を通じてオリンピックが開催<sup>かいさい</sup>されていない都市はどこですか。開催された3つの都市出身のAさん、Bさん、Cさんの会話を参考に、下のア～エのうちから1つ選び、記号で答えなさい。

Aさん 雪まつりが有名な私の町では、1972年にオリンピックが開催されました。

Bさん 日本の首都である私の町では夏季に2度、オリンピックが開催されました。

Cさん 日本のほぼ中心に位置する、海に面さない県の県庁所在地である私の町では1998年にオリンピックが開催されました。

ア 札幌<sup>さっぽろ</sup>

イ 大阪

ウ 長野

エ 東京

問3 下線部③について、次の(1)・(2)は、中国の歴史書を訳したものの一部です。あとの問いに答えなさい。

(1) 次の資料中の( )に入る人物はだれですか。漢字で答えなさい。

邪馬台国<sup>やまたいこく</sup>では、前は男の王を立てていたが、何年間も戦争が続いたので、共同で一人の女子を王として立てた。この女王の名は( )といい、呪術<sup>じゅじゆつ</sup>にたくみで、人々をうまく信頼<sup>しんらい</sup>させ支配している。

『魏志』倭人伝

(2) 次の資料中の「使者」とはだれのことですか。漢字で答えなさい。

倭国<sup>わこく</sup>(日本)の王が使者<sup>つか</sup>を遣わして、隋<sup>ずい</sup>(中国)に貢物<sup>みつぎもの</sup>を持ってやってきた。王の手紙には、「日が昇<sup>のぼ</sup>るところの天子が、書を日が没<sup>ぼつ</sup>するところの天子に差し出します。お元気ですか…。」とあった。隋の皇帝は手紙を見て不機嫌<sup>ふきげん</sup>になった。

『隋書』倭国伝



問4 下線部④について、弥生時代に関連する遺跡としてまちがっているものを、次のア～エのうちから1つ選び、記号で答えなさい。

ア 纏向遺跡      イ 三内丸山遺跡      ウ 登呂遺跡      エ 吉野ヶ里遺跡

問5 文中の空らん（ ⑤ ）には、古墳の周りに置かれていた素焼きの土製品の呼び名が入ります。その呼び名をひらがなで答えなさい。

問6 下線部⑥について、大化の改新の目的について述べた文として最も適当なものを、次のア～エのうちから1つ選び、記号で答えなさい。

- ア 天皇を中心とする強力な国をつくるため。
- イ 仏教の力で平和な国をつくるため。
- ウ 武士による政治のしくみをつくるため。
- エ 国民の代表である議会による政治をつくるため。

問7 下線部⑦に関連して、交通制度が整ったことにより、税の制度も整っていきました。以下の資料は、古代の税とそれを支払う農民たちの苦労を記したものです。この文章の内容の説明としてまちがっているものを、あとのア～エのうちから1つ選び、記号で答えなさい。

712年の正月16日に天皇がおっしゃることには、「地方から都へ、税を支払ったり労働したりするためにやってきた百姓たちが、故郷に帰る途中で食べ物が無くなって飢え、道端の溝などに転げ落ちることが多い。地方の役人である国司は、彼らを保護し、必要に応じて食料を与えなさい。飢えて死んでしまったものについては、埋葬し、その姓名を記録しておいて、故郷に連絡してあげなさい」と。…（中略）…

715年の5月1日。地方の政治を報告に来た役人たちに天皇がおっしゃった。「百姓たちは、その多くが故郷にある自分の土地を離れて浮浪し、税や労働を逃れている。故郷ではない、ほかの場所にとどまって3か月以上が過ぎた者は、そこに移り住んで税を納めるようにしなさい。…」と。

『続日本紀』

- ア 百姓は、税を支払ったり労働したりするため、都に行かなければならなかった。
- イ 都に向かった百姓の中には、途中で食料が無くなり、飢え死にする者もあった。
- ウ 百姓の中には、税や労働を逃れるために、故郷を離れる者もあった。
- エ 故郷を離れた百姓は居場所を管理できないので、税を納入しなくてもよかった。

問8 下線部⑧について、次のア～オの文は、鎌倉時代から室町時代に起こった出来事です。これを古い順に並び変えたとき、2番目と4番目の出来事はどれですか。それぞれ記号で答えなさい。

- ア <sup>あしかがよしみつ</sup>足利義満が、各地の守護大名を従えて、強い権力を持った。
- イ 将軍に代わり政治を行う<sup>しつけん</sup>執権が幕府の政治をすすめた。
- ウ <sup>みなもとのよりとも</sup>源頼朝が<sup>せいゐたいしやうぐん</sup>征夷大將軍に任命され、全国の武士を従える地位についた。
- エ <sup>てっぽう</sup>鉄砲やキリスト教が伝わった。
- オ 将軍のあとつぎ問題などをめぐり、<sup>おうにん</sup>応仁の乱が起こって戦乱が全国へ広まった。

問9 下線部⑨について、「蒙古」とはどこの国のことを指していますか。次のア～エのうちから1つ選び、記号で答えなさい。

- ア <sup>とう</sup>唐           イ 元           ウ <sup>みん</sup>明           エ <sup>こうらい</sup>高麗

問10 下線部⑩について、「長篠合戦」に登場しない人物を、次のア～エのうちから1人を選び、記号で答えなさい。

- ア 徳川家康<sup>いそやす</sup>           イ 織田信長<sup>のぶなが</sup>           ウ 北条時宗<sup>ときむね</sup>           エ 豊臣秀吉<sup>とよとみひでよし</sup>

問11 下線部⑪に関連して、江戸時代の日本ではさまざまなものがリサイクルされており、馬は、はいせつ物を都市から農村に運ぶなどの役割を果たしていました。はいせつ物のリサイクルのほか、江戸時代にはどのようなリサイクルがおこなわれていましたか。その内容を1つあげ、説明しなさい。

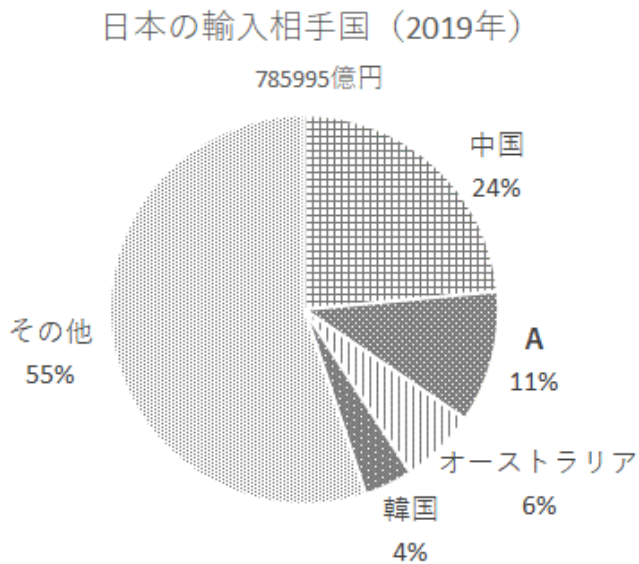
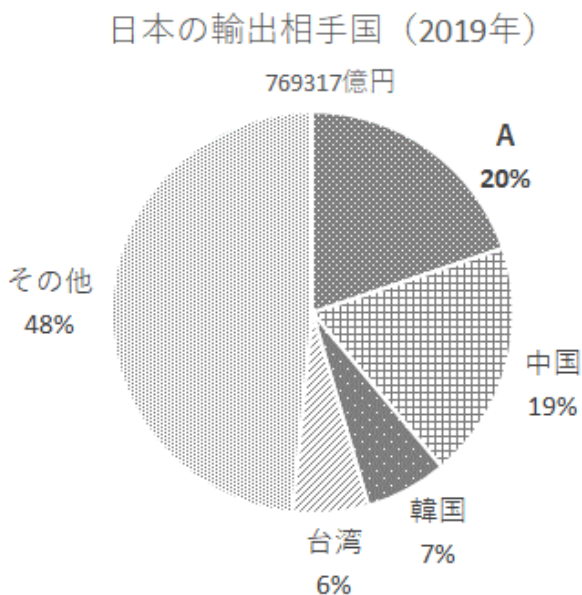
問12 下線部⑫について、鎖国とその後の日本について説明した文としてまちがっているものを、次のア～エのうちから1つ選び、記号で答えなさい。

- ア 江戸幕府が鎖国を行った目的の一つは、キリスト教が広まることを防ぐことであった。
- イ 「鎖国」とはいいながらも、朝鮮や琉球王国からは、幕府の将軍が代わるごとに江戸へ使節が派遣された。
- ウ 鎖国の間も一部の国と貿易をおこなっていたが、貿易はすべて長崎の出島を使用した。
- エ ペリーが開国を求めたことにより、幕府はアメリカと条約を結び、鎖国と呼ばれる状態が終わった。

問13 下線部⑬について、日露戦争について述べた文として最も適当なものを、次のア～エのうちから1つ選び、記号で答えなさい。

- ア 東郷平八郎の指揮する艦隊が、日本海海戦で敵の大艦隊を破って勝利した。
- イ 日本は戦争に勝ち、条約により台湾とリヤオトン半島をゆずり受けた。
- ウ 日本政府は、戦争で得た賠償金の一部を使って、北九州に八幡製鉄所をつくった。
- エ 戦後、世界の平和を守るための組織として国際連盟がつけられた。

問 14 下線部⑭に関連して、次の円グラフは 2019 年の日本の主な輸出と輸入の相手国を示したものです。グラフ中の **A** に当てはまる国名を答えなさい。



『財務省貿易統計』より作成

3 次の文章を読んで、あとの問いに答えなさい。

ケン：この間、①選挙があったね。

メイ：ああ、県知事を決める選挙ね。

ケン：お母さんとお父さんが誰に投票するか話してたよ。

メイ：②私の姉も先月が誕生日で、今回から③選挙権があるから投票に行ったって言ってたわ。

ケン：でも、④新聞に投票率が40%台だったって書いてあったよ。投票に行かない人がたくさんいるんだね。

メイ：そうね、私も⑤政治に関心がないって言う人たちのニュースを見たことがあるわ。

ケン：誰に投票したらいいかなんてどうやって決めたらいいのかな。

メイ：うーん、私なら、候補者が「当選したらこんなことをやります」って言うてることを、ちゃんと聞いて判断するかな。

ケン：でも、どの候補者の約束にも賛成なところもあるし、反対のところもあるし、難しいね。

メイ：本当、自分が何を優先するか考えておかないとね。

ケン：僕は⑥みんなが安心して暮らせるように、地震や大雨みたいな自然災害が起こったときの⑦防災対策を優先するかな。

メイ：異常気象も増えているものね。私は、それも含めてSDGs（エス・ディー・ジーズ）に積極的に取り組んでほしい。

ケン：国連（国際連合）で決めた「⑧持続可能な開発目標」のことだね。僕たちの学校でも、SDGs新聞を作ったり、古着を集めて難民キャンプに送ったりしてるけど、最近は大さんの企業やお店もいろんな取り組みをしているよね。

メイ：SDGsは2030年までの目標だけど、2030年はもう8年後よ。目標達成には個人や企業の努力も大事だし、政治のリーダーシップも必要だと思うの。

ケン：都道府県の政治は⑨国レベルの政治より身近に感じられるから、政治に参加するってどういうことか考えるいい機会だね。

メイ：⑩外国では自由な選挙のために命がけでデモをしている人たちがいるわ。せっかくの選挙権を、私は大切に使おうと思うの。

問1 下線部①について、国民が直接、選挙で選ぶことができるものを、次のア～エのうちからすべて選び、記号で答えなさい。

- ア 内閣総理大臣
- イ 衆議院議員
- ウ 参議院議員
- エ 最高裁判所の裁判官

問2 下線部②について、メイさんの姉の現在の年齢<sup>ねんれい</sup>を答えなさい。

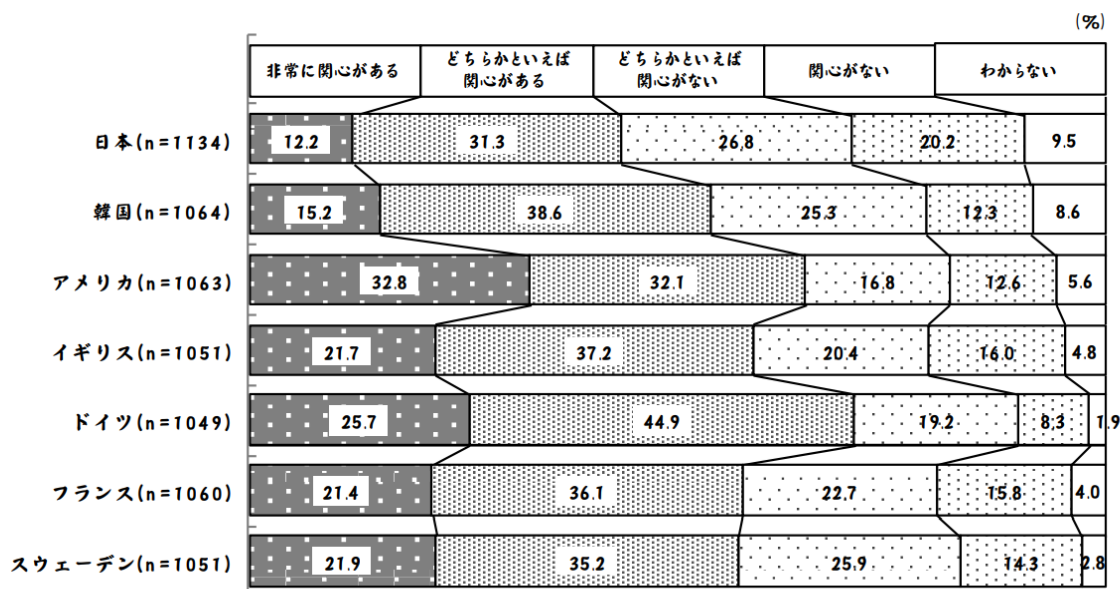
問3 下線部③について、日本国憲法は、基本的人権の尊重を原則の一つとし、様々な国民の権利を保障する一方で、国民が果たさなければならない義務についても定めています。国民の権利として保障されており、また義務としても定められていることとして最も適当なものを、次のア～エのうちから1つ選び、記号で答えなさい。

- ア 仕事について働くこと
- イ 教育を受けること
- ウ 税金を納めること
- エ 健康で文化的な生活を営むこと

問4 下線部④について、私たちは新聞やテレビ、インターネットからたくさんの情報を手に入れています。新聞やテレビ、インターネットに関する記述として適当なものを、次のア～エのうちから2つ選び、記号で答えなさい。

- ア 新聞は、新聞社が一番重要と考えたニュースを一面にのせたり、新聞社の考えを「社説」として読者に伝えたりしている。
- イ テレビは、映像や音声を使って情報を伝えることができるため、テレビの情報は新聞による情報より信用することができる。
- ウ インターネットは情報を伝える速度が速いため、新聞やテレビより正確に情報を伝えていると考えられる。
- エ 新聞やテレビ、インターネットで得た情報も、それは本当なのか疑ってみることが必要である。

問5 下線部⑤について、次の図は「あなたは、今の自分の国の政治にどのくらい関心がありますか。」という質問への回答です。この図から読み取れることとして最も適当なものを、下のア～エのうちから1つ選び、記号で答えなさい。



nは調査票の回収数

内閣府の我が国と諸外国の若者の意識に関する調査（平成30年度）より

- ア 「非常に興味がある」、「どちらかといえば興味がある」と答えた人の割合は、すべての国で50%を超えている。
- イ 日本以外の国は、「非常に興味がある」と答えた人の割合が、「関心がない」と答えた人の割合より高い。
- ウ 「関心がない」、「どちらかといえば関心がない」と答えた人の割合は、アジアの国の方がヨーロッパの国より高い。
- エ 「非常に興味がある」と答えた人の割合が最も高い国は、「関心がない」と答えた人の割合が最も低い。

問6 下線部⑥について、国民が安心して暮らすためのしくみとして裁判があります。また、日本には裁判員制度がとりいれられています。裁判員制度に関する記述としてまちがっているものを、次のア～エのうちから1つ選び、記号で答えなさい。

- ア 裁判員制度は、国民の感覚や視点を裁判に生かすことを目的にしている。
- イ 裁判員は満20歳以上で選挙権を持つ人の中からくじで選ばれる。
- ウ 裁判員に選ばれた人は、<sup>けいばつ</sup>刑罰が軽い犯罪の裁判に裁判官とともに加わる。
- エ 裁判員は、うたえられた人が有罪か無罪か、有罪の場合は、どのくらいの刑にするかを判断する。

問7 下線部⑦について、ケンさんは自然災害に備えて防災リュック（非常用持ち出し袋）を用意することにしました。ケンさんは次の物を防災リュックに入れましたが、これに追加するとしたらあなたは何を入れますか。追加する物を1つあげ、それを入れた理由を説明しなさい。

ケンさんが防災リュックに入れた物

- ・飲み水
- ・非常食
- ・<sup>かいちゆう</sup>懐中電灯
- ・衣料品（着替えやタオル）
- ・貴重品（お金や通帳など）

問8 下線部⑧について、「持続可能な開発」という言葉は、温暖化だけでなくさまざまな地球環境問題を考えるときのキーワードになっています。「持続可能な開発」という考え方を説明した文として適当なものを、次のア～エのうちから2つ選び、記号で答えなさい。

- ア 地球環境保護より経済開発を優先しようという考え。
- イ 地球環境保護と経済開発を両立しようという考え。
- ウ 今の世代の人々の経済開発を優先する考え。
- エ 将来の世代の人々の経済開発も実現しようという考え。



問9 下線部⑨について、日本では、国の政治を国会・内閣・裁判所が分担して行っています。それぞれの機関が、その役割を実行するとともに、おたがいの役割がきちんと実行できているかどうかを調べる役割をもつことで、一つの機関に権力が集中しないようにしています。このようなしくみを何といいますか。漢字4字で答えなさい。

問10 下線部⑩について、次の文章A～Dは、それぞれ、アメリカ・サウジアラビア・中国・ブラジルのいずれかを説明しています。このうち、サウジアラビアと中国を説明した文章を正しく組み合わせているものを、下のア～エのうちから1つ選び、記号で答えなさい。

- A 日本から見るとちょうど地球の反対側にある国で、広大なアマゾンの熱帯林、鉄鉱石などの豊かな鉱物資源、農産物に恵まれている。
- B 砂漠や山岳地帯が多く、乾燥した気候の国で、豊富な石油資源にめぐまれている。石油で得た利益は、国内開発、医療費や教育費の無料化などに生かされている。
- C 漢字を使うことや、はしを使って食事をすることなど、文化や生活習慣で日本と共通していることが多い。
- D コンピューターをはじめとする情報通信技術は、この国で発達し世界に広まった。日本は、機械製品や航空機、農作物などをこの国から輸入している。

- ア サウジアラビア＝A 中国＝B
- イ サウジアラビア＝A 中国＝D
- ウ サウジアラビア＝B 中国＝C
- エ サウジアラビア＝B 中国＝D